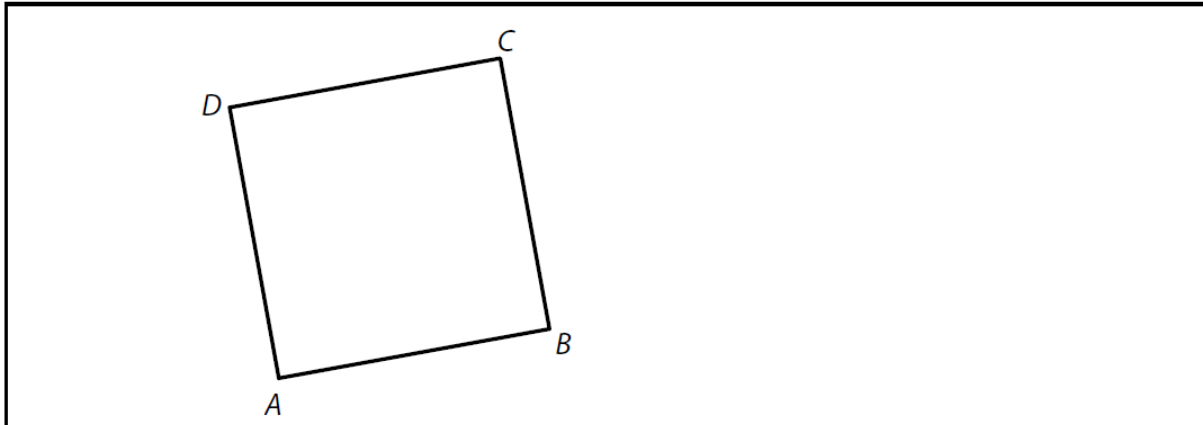
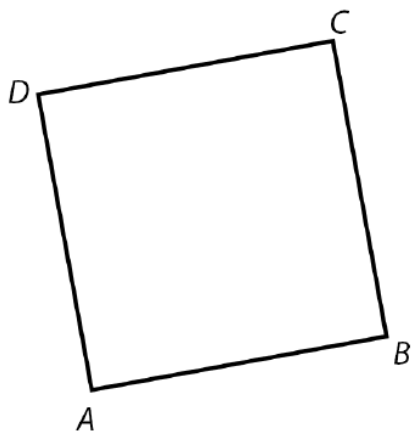


VÝCHOZÍ OBRÁZEK K ÚLOZE 9



- 9 V obrázku sestrojte střed S daného čtverce $ABCD$.
Vrcholem B vedte přímku p rovnoběžnou s úhlopříčkou AC .
V záznamovém archu obtáhněte všechny čáry propisovací tužkou.

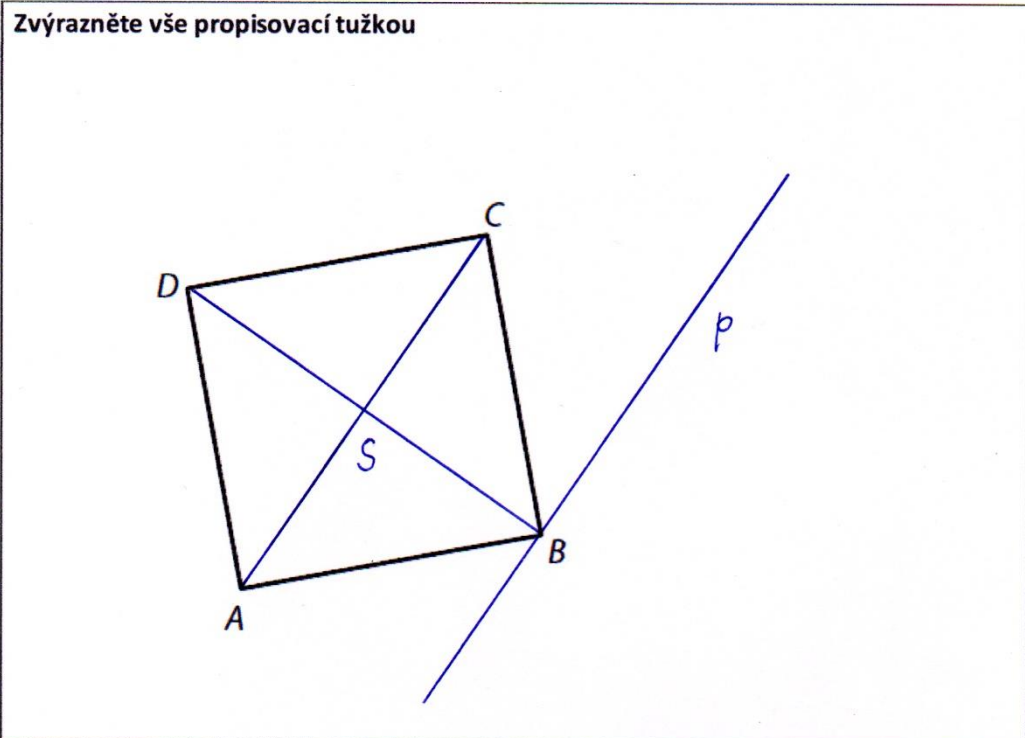
- 9 Obtáhněte všechny čáry propisovací tužkou.



Řešení 9

9

max. 2 b.



Postup 9

- 1) S ; $S \in AC \cap BD$
- 2) p ; $p \parallel AC$, $B \in p$

Diskuse 9

1 řešení

Záznamový arch

9 Obtáhněte všechny čáry propisovací tužkou.

